



Jeu de piste BAYONNE

JOANA GOYHÉNÈCHE
LA CLASSE
VAGABONDE

Choisissez votre niveau de difficulté pour les indices avant de démarrer. Les indices de niveau 1 sont plus simples, et niveau 2 plus corsés (12 ans et +). À vous de jouer !

Fiche questions

Étapes

Détails du circuit, énigmes et bon à savoir.

Départ à l'esplanade de Verdun à Bayonne.

Sur le monument aux morts, voyez-vous les dates de la Première Guerre mondiale ?

Énigme a : Trouvez un numéro...

- **Niveau 1** : Regardez la fiche questions niveau 1.
- **Niveau 2** : Les dates de la Première Guerre mondiale ont été écrites en chiffres romains sur ce monument. Pour trouver ces nombres, voici un tableau qui pourra vous aider.

M	CM	X	IV	V	III
1000	900	10	4	5	3

MCMXIV = + + + =

MCMXVIII = + + + + =

Prendre le chiffre des milliers de chaque année trouvée et les juxtaposer (les mettre côte à côte)

Réponse a :

Rendez-vous à ce numéro rue Jules-Labat !

Bon à savoir : 1^{ère} Guerre mondiale

L'Allemagne déclare la guerre à la France le 3 août 1914. Il y a 35 pays qui vont prendre part à cette guerre particulièrement violente. La bataille de Verdun (nord-est de la France) fait plus de 700 000 victimes. Cette esplanade porte le nom de cette ville tristement connue. Les soldats sont surnommés « les poilus ».

L'armistice (arrêt de la guerre) est proclamé le 11 novembre 1918 ; il marque la victoire de la France et de ses alliés.

1 –
Esplanade de
Verdun

2 – Rue
Jules-Labat

Mettez-vous en face de la porte principale du bâtiment. Sur la façade, au-dessus de cette porte, se trouvent 3 lettres en ferronnerie.

Énigme b : Quelles sont ces lettres ? **Réponse b :**

Énigme c : Mais à quels mots correspondent ces lettres ?

Réponse c :

Niveau 1 : Regardez la fiche questions niveau 1.

Niveau 2 : Pas d'aide !

Rendez-vous au numéro 1 de la rue Ducéré !

Bon à savoir : Les demoiselles du téléphone ou les téléphonistes

C'était le nom donné aux personnes qui travaillaient aux PTT (souvent des femmes) et qui connectaient, à l'aide d'un standard téléphonique, deux personnes pour qu'elles puissent communiquer, se parler par téléphone.

3 – 1 rue
Ducéré

Retrouvez la plaque commémorative de René Cassin !

Énigme d :

Niveau 1 : Regardez la fiche questions niveau 1.

Niveau 2 : Quel est l'infinitif du verbe conjugué dans la plaque ? À quel temps est-il conjugué ?

Réponse d :

Énigme e : Avant de vous rendre à la prochaine étape, une petite charade pour découvrir un nouveau personnage de Bayonne.

Mon premier est l'article défini féminin.

Mon deuxième est l'étape de la naissance à la mort.

Mon troisième est une activité que l'on fait pour s'amuser. Cette activité peut être de société.

Mon quatrième est une céréale que l'on mange souvent en Chine.

Mon tout est le nom d'un cardinal connu à Bayonne.

Réponse e :

Vous avez trouvé la réponse à cette charade ? Vérifiez-la en vous rendant à l'esplanade de l'Échauguette.

Bon à savoir : René Cassin

Il naît le 5 octobre 1887 à Bayonne (juste dans l'immeuble devant vous). Après la 2ème Guerre mondiale, il rédige avec John Peters Humphrey la Déclaration universelle des droits de l'homme. Elle dit notamment que quand les enfants naissent, ils sont libres et doivent tous être traités de la même manière. Il reçoit le Prix Nobel de la paix. C'est un prix très connu qui récompense des personnes qui aident les différents peuples à vivre en paix.

4 –
Esplanade de l'Échauguette

Regardez-bien la statue pour vérifier votre **réponse e**. Un cardinal est une personne qui fait partie du clergé, il est au service de la religion catholique. Sur cette esplanade, vous avez une belle vue sur la place de la Liberté et la mairie de Bayonne.

Énigme f :

Niveau 1 : Regardez la fiche questions niveau 1.

Niveau 2 : Voici une définition : mot qui dans la religion chrétienne exprime l'amour de Dieu. Ce mot désigne aussi un acte de bonté ou de générosité envers les autres (l'internaute.fr).

Quel est ce mot ? **Réponse f :**

Énigme g : Trouvez ce mot sur le monument soutenant la statue. Attention, je n'ai pas précisé la langue.

Réponse g :

Trouvez le bâtiment le plus haut de Bayonne.

Indice niveau 1 : Regardez la fiche questions niveau 1.

Indice niveau 2 : regardez la mairie de Bayonne, ce bâtiment se situe à gauche de la mairie.

Rendez-vous à l'entrée principale de ce monument rue des Gouverneurs.

Bon à savoir : Histoire de ce cardinal

Il est né le 31 octobre 1825 à Saint-Esprit (quartier maintenant bayonnais situé de l'autre côté du pont Saint-Esprit). Il lutte contre l'esclavage. L'esclavage est la condition de personnes qui « appartiennent » à d'autres personnes. Les maîtres ont le droit de vendre ces personnes comme des objets. Après plusieurs années en Afrique, il meurt le 26 novembre 1892 à Alger en Algérie.

5 –
Monument
rue des
Gouverneurs

À gauche de la porte principale, vous trouverez une plaque. Cette cathédrale est un lieu de passage des pèlerins. Les pèlerins sont des personnes qui décident de faire un voyage (souvent en marchant) pour se rendre dans un lieu sacré (religieux), dans ce cas Saint-Jacques de Compostelle (Espagne). Il y a encore des chiffres romains sur cette plaque. Les voyez-vous ?

Énigme h :

Niveau 1 : Regardez la fiche questions niveau 1.

Niveau 2 : Les dates de la grande époque des pèlerinages ont été écrites en chiffres romains sur ce monument. Pour trouver ces nombres, voici un nouveau tableau qui pourra vous aider.

X	I	V
10	1	5

XI = + =

XV = + =

Soustrayez ces deux nombres (le plus grand moins le plus petit). **Réponse h :**

Regardez le dessin en bas à droite de la plaque. C'est une représentation de la coquille Saint-Jacques.

Bon à savoir : La coquille Saint-Jacques



Au début, les pèlerins ramassaient des coquillages à l'arrivée de leur pèlerinage à Saint-Jacques de Compostelle. C'était, pour eux, une preuve de leur long voyage. Maintenant, ce coquillage (la coquille Saint-Jacques) est devenu le symbole de ce pèlerinage.

Énigme i : Petite charade avant de se rendre à la nouvelle étape.
Mon premier est l'antonyme (contraire) de froid.
Mon deuxième est une forme géométrique sans angle.
Mon tout est le nom de la source qui coule à la prochaine étape.

Réponse i :

Rendez-vous à la place Pasteur où vous pourrez vérifier vos **réponses h et i**.

Pour vérifier votre **réponse h**, comptez le nombre de têtes de lion sur la fontaine de la place.
Regardez le nom de la source et vérifiez votre **réponse i**.

Ici, vous êtes à la place de l'ancien pilori.

Bon à savoir : Le pilori

Au départ l'endroit était un simple poteau où les brigands étaient attachés par un collier de fer à la vue de tous. Ce poteau a été ensuite remplacé par un petit monument en pierre qui servait aussi à faire voir à tout le monde les criminels de la ville. Cet édifice a été détruit par la suite.

Énigme j : Pour découvrir le lieu de la nouvelle étape, il faut trouver un mot. Voici deux indices :

Indice 1 :

Sur mes cahiers d'écolier
Sur mon pupitre et les arbres
Sur le sable sur la neige
J'écris ton nom (...)

Liberté.

Paul Éluard

Indice 2 : L'anagramme du mot cherché est bélitre.

Une anagramme est un mot obtenu en changeant la position des lettres d'un autre mot.

Un bélitre est un mot utilisé autrefois pour désigner une personne de peu de valeur, un coquin, un voyou.

Quel est ce mot ? **Réponse j** :

Aide niveau 1 : Regardez la fiche questions niveau 1.

Aide niveau 2 : Pas d'aide !

Rendez-vous à la place qui porte le nom de la **réponse j**.

6 –
Place
Pasteur

Bienvenue à la dernière étape de ce jeu. Regardez la façade principale de la mairie. À droite, vous avez deux cours d'eau qui se rencontrent, la Nive et l'Adour. Avant d'en savoir plus sur ces étranges statues en haut du bâtiment, voici la dernière question.

Énigme k :

Niveau 1 : Regardez la fiche questions niveau 1.

Niveau 2 : Quel est le mot utilisé en géographie pour désigner un endroit où deux cours d'eau se rejoignent ?

Réponse k :

7 –
Mairie

Bon à savoir : Les statues de la mairie de Bayonne

La première version de ces 6 statues a été installée en 1842. Mais la pluie et le vent les ont détériorées (abimées).

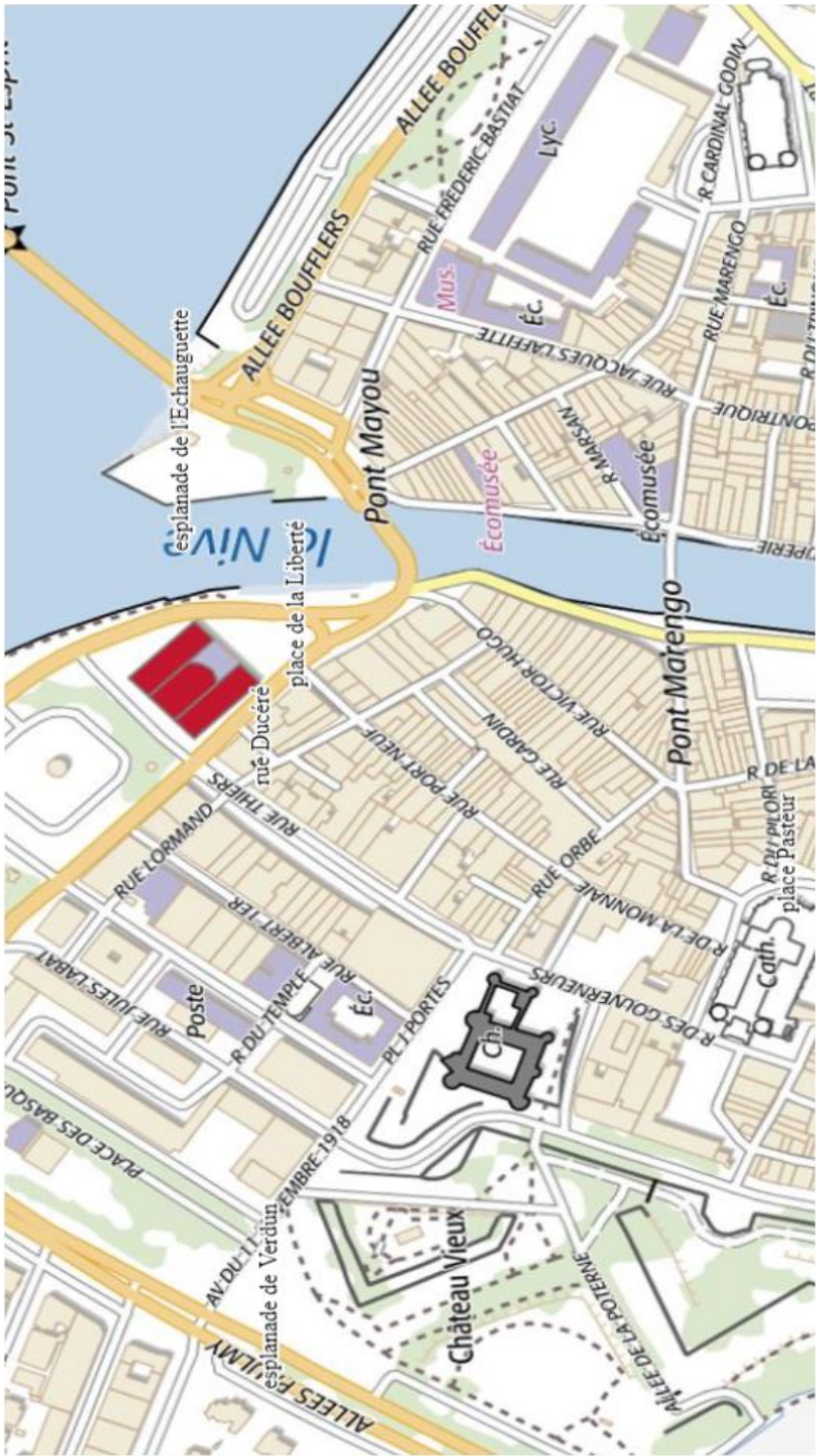
C'est en 1891 que sont installées les statues en fonte que nous voyons aujourd'hui. Ces statues représentent les activités économiques et artistiques essentielles de la ville à l'époque. De gauche à droite, il y a : la navigation, l'industrie (activité qui fabrique différents produits), l'art, le commerce, l'astronomie (science qui étudie les astres), et l'agriculture.

J'espère que vous avez passé un bon moment !

N'hésitez pas à consulter mon site internet ou ma page Facebook (La classe vagabonde) et à me contacter pour des cours à domicile. Scannez ce QR code pour arriver directement sur mon site.





Je tiens à remercier ma famille et mes proches pour leur aide dans la réalisation de ce jeu. Merci à tous mes testeurs !



La classe vagabonde

Fiche questions niveau 1

Étapes

<p>1 – Esplanade de Verdun</p>	<p>Les parents, n'hésitez pas à aider vos enfants pour toutes les questions !</p> <p>Niveau 1 : La Première Guerre mondiale a eu lieu de 1914 à 1918. Prendre le 1^{er} chiffre de gauche de chaque nombre et les juxtaposer (mettre côte à côte).</p> <p>Réponse a : <input type="text"/> <input type="text"/></p>
<p>2 – La poste</p>	<p>Mettez-vous en face de la porte principale du bâtiment. Sur la façade, au-dessus de cette porte, se trouvent 3 lettres en ferronnerie. Quelles sont ces lettres ? Réponse b :</p> <p>Mais à quels mots correspondent ces lettres ?</p> <p>Réponse c :</p> <p>Niveau 1 : Regardez attentivement le bâtiment...</p>
<p>3 – 1 rue Ducéré</p>	<p>Niveau 1 : Combien y'a-t-il d'années entre 1887 et 1976 ?</p> <p>Aide : 1887 1890 1900 1910 1920 1930 1940 1950 1960 1970 1976</p>  <p>Réponse d :</p> <p>Avant de vous rendre à la prochaine étape, une petite charade pour découvrir un nouveau personnage de Bayonne.</p> <p>Mon premier est l'article défini féminin.</p> <p>Mon deuxième est l'étape de la naissance à la mort.</p> <p>Mon troisième est une activité que l'on fait pour s'amuser. Cette activité peut être de société.</p> <p>Mon quatrième est une céréale que l'on mange souvent en Chine.</p> <p>Mon tout est le nom d'un cardinal connu à Bayonne.</p> <p>Réponse e :</p>
<p>4 – Esplanade de l'Échauguette</p>	<p>Niveau 1 : Voici un rébus pour trouver un mot.</p>  <p>Quel est ce mot ? Réponse f :</p> <p>Trouve ce mot sur le monument soutenant la statue. Attention, il est écrit en latin et non en français.</p> <p>Réponse g :</p> <p>Indice niveau 1 : les 2 sommets de ce bâtiment ont la même hauteur.</p>

<p>5 – La cathédrale</p>	<p>Niveau 1 : Du 11^{ème} au 15^{ème} siècle, de nombreux pèlerins ont marché sur ces chemins. Quel est le résultat de 15 – 11 ? Réponse h :</p> <p>Petite charade avant de se rendre à la nouvelle étape. Mon premier est l'antonyme (contraire) de froid. Mon deuxième est une forme géométrique sans angle. Mon tout est le nom de la source qui coule à la prochaine étape.</p> <p>Réponse i :</p>
<p>6 – Place Pasteur</p>	<p>Indice 1 : Sur mes cahiers d'écolier Sur mon pupitre et les arbres Sur le sable sur la neige J'écris ton nom (...)</p> <p>Liberté.</p> <p>Paul Eluard</p> <p>Indice 2 : L'anagramme du mot cherché est bélitre. Une anagramme est un mot obtenu en changeant la position des lettres d'un autre mot. Un bélitre est un mot utilisé autrefois pour désigner une personne de peu de valeur, un coquin, un voyou.</p> <p>Quel est ce mot ? Réponse j :</p> <p>Aide niveau 1 : Le mot cherché est écrit dans le poème.</p>
<p>7 – Mairie</p>	<p>Niveau 1 : Quel est le mot utilisé en géographie pour désigner un endroit où deux cours d'eau se rejoignent ? Aide :</p> <div data-bbox="264 1099 826 1435" data-label="Image"> </div> <p>Réponse k :</p>

Fiche réponses

Réponse a : 11

Réponse b : PTT

Réponse c : Postes, Télégraphes, Téléphone

Réponse d : niveau 1 : 89 années niveau 2 : verbe naître au passé simple

Réponse e : La vie jeu riz (Lavigerie)

Réponse f : la charité

Réponse g : charitas

Réponse h : 4

Réponse i : chaud rond (chaoron)

Réponse j : liberté

Réponse k : confluent (k'on f lu an)

